

容積

正答数

/13

できたかな
マーク

😊

😐

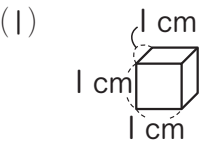
😞

月日

年組番

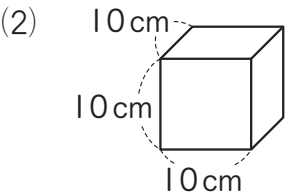
名前

1 にあてはまる数を書きましょう。



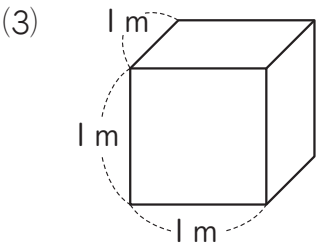
ア cm³

イ mL



ウ cm³

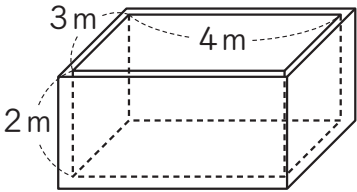
エ L



オ m³

カ L

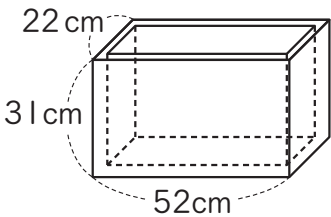
2 右の水そうの容積は、何m³ですか。
また、何Lですか。



[] m³, [] L

3 厚さ1cmの板で、右のような直方体の形をした
入れ物を作りました。

(1) この入れ物の、内のりのたて、横、深さは
それぞれ何cmですか。



たて[] cm, 横[] cm, 深さ[] cm

(2) 容積は何cm³ですか。また、何Lですか。

[] cm³, [] L

容積

1 (1) ア… | イ… | (2) ウ… | 000 エ… | (3) オ… | カ… | 000

2 24m^3 , 24000L

3 (1) たて… 20cm , 横… 50cm , 深さ… 30cm
(2) 30000cm^3 , 30L