

いろいろな形の体積

正答数

/ 4

できたかな  
マーク

😊

😐

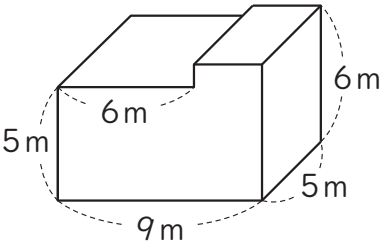
😞

月 日 年 組 番

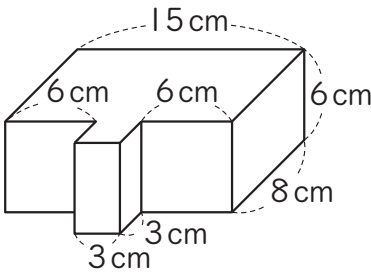
名前

次の図のような立体の体積を求めましょう。

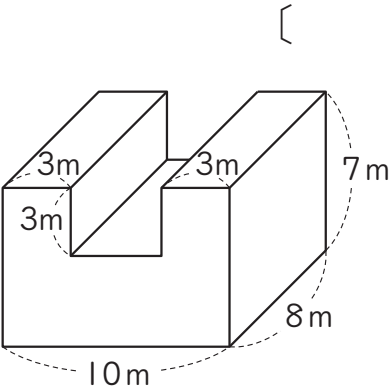
(1)



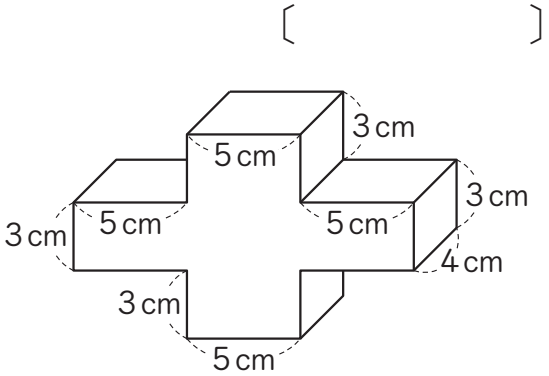
(2)



(3)



(4)



[ ]

[ ]

**いろいろな形の体積**

(1)  $240\text{m}^3$     (2)  $774\text{cm}^3$     (3)  $464\text{m}^3$     (4)  $300\text{cm}^3$