

合同な図形のかき方

正答数 / 3

できたかなマーク

😊

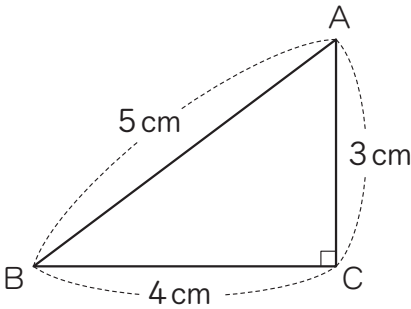
😐

😞

月 日 年 組 番

名前

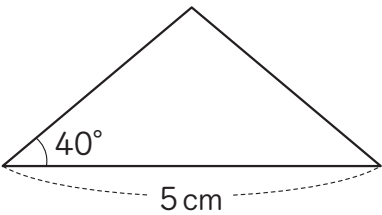
1 右の三角形ABCと合同な三角形を，ものさし，
分度器，コンパスを使ってかきます。



(1) 2つの辺の長さとその間の角の
大きさを使ってかきましょう。

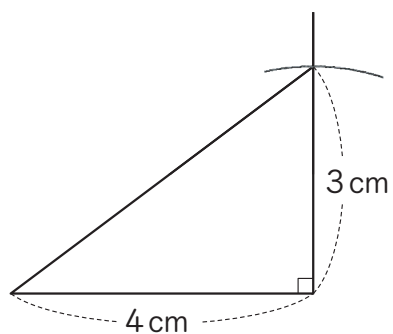
(2) 3つの辺の長さを使って
かきましょう。

2 下の二等辺三角形と合同な三角形を，ものさし，分度器を使ってかきましょう。

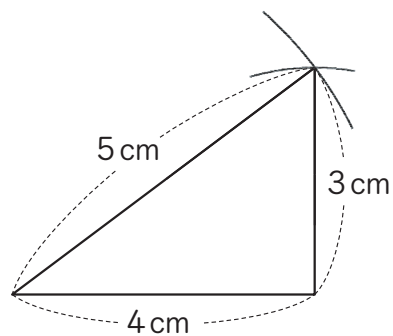


合同な図形のかき方

1 (1)



(2)



2

