

チャレンジ ワークシート①

くみ
組
ばん
番
なまえ
名前

がつ
月
にち
日

せいとうすう
正答数

/2

ねらい ●いろいろな もんだいに チャレンジして さらに 力を つける。

- ① 子どもが 15人 1れつに ならんで います。こうたさんの まえに 6人 います。こうたさんの うしろには なん人 いますか。
下の ずの つづきを かいて、もんだいに こたえましょう。

ず

まえ ○○○○○○


うしろ

しき

こたえ

人

- ② みゆきさんは、10円玉を 8まいと、1円玉を 5まい もって、かいものに いました。



☐ に あてはまる かずを かきましょう。また、()の 中の 正しい ほうを ○で かこみましょう。

みゆきさんは、 円 もって います。

みゆきさんは、78円の チョコレートが (かえます・かえせん)。

チャレンジワークシート①

〈こたえ〉

① ず



しき $15 - 6 - 1 = 8$

こたえ 8人

！ワンポイントアドバイス

15人から
こうたさんの
まへの 6人と
こうたさんの
1人を ひいて
もとめる。

〈こたえ〉

② 85

かえますに

！ワンポイントアドバイス

10円玉が 8まいで 80円,
1円玉が 5まいで 5円,
80円と 5円で 85円

85円と 78円を くらべると, 85円の ほうが
おおいので, かえる。

チャレンジ ワークシート②

くみ ばん
組 番

がつ にち
月 日

せいとうすう
正答数


なまえ
名前

/2


ねらい ●いろいろな もんだいに チャレンジして さらに 力を つける。

- ① つみきを つみ上げます。たかく つみ上げる ことが できる じゅんに 名まえを かきましょう。


まなぶ



わたる



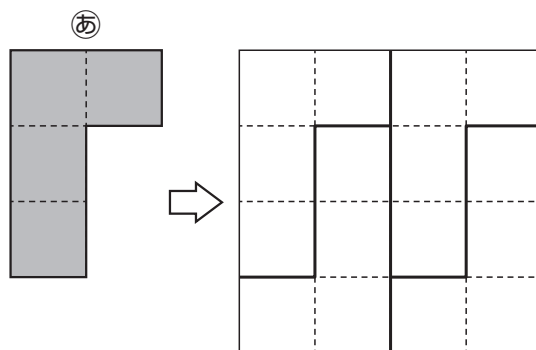
としき



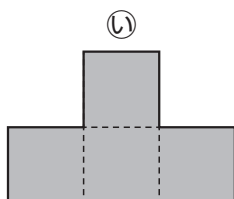
たかい () → () → () ひくい

- ② 下の 〈れい〉は、右の かたちが ㊦の いろいた 4まいで できて いる ことを せんを かき入れて あらわした ものです。

〈れい〉



右の かたちが ㊧の いろいた なんまいで できて いるか、 〈れい〉に ならって、せんを かき入れて かんがえましょう。



() まい

チャレンジワークシート②

〈こたえ〉

① としき→まなぶ→わたる

！ポイントアドバイス

まなぶは わたるより たかく なる。
としきは まなぶより たかく なる。
だから、としきが いちばん たかい。

〈こたえ〉

② (れい)

4まい

！ポイントアドバイス

むきが かわって いても かまわない。

