

図形の角

正答数

/6

できたかな  
マーク

😊

😐

😞

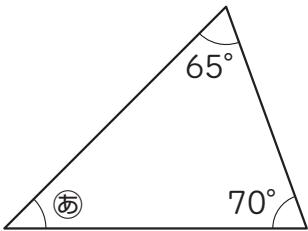
月日

年組番

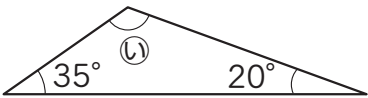
名前

㉞～㉠の角度はそれぞれ何度ですか。計算で求めましょう。

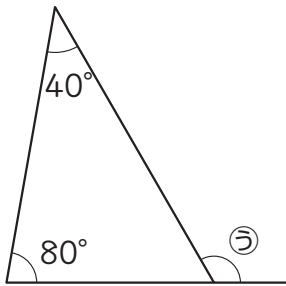
(1)



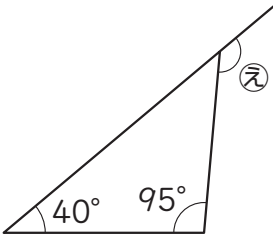
(2)



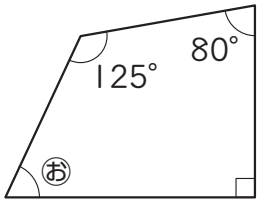
(3)



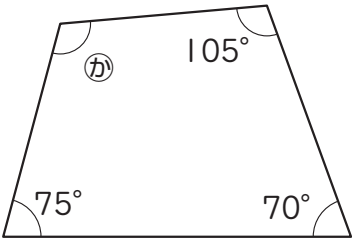
(4)



(5)



(6)



**図形の角**

(1)  $45^\circ$     (2)  $125^\circ$     (3)  $120^\circ$     (4)  $135^\circ$     (5)  $65^\circ$     (6)  $110^\circ$