

かたち

くみ
組

ばん
番

がつ
月

にち
日

せいとうすう
正答数

なまえ
名前

/ 3


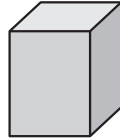
- ねらい**
- いろいろな かたちの とくちょうが わかる。
 - いろいろな かたちの なかまわげが できる。

ようてんチェック

(はこの かたち)

(つつの かたち)

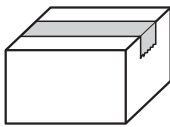
(ボールの かたち)



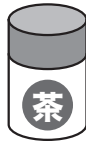
れいだい

下の ㊸～㊺の かたちに ついて かんがえましょう。

㊸



㊹



㊺



- (1) たかく つみ上げる ことが できる かたちは
どれですか。

たいらな ところがある かたち () と ()

- (2) ころがりやすい かたちは どれですか。

まるい ところがある かたち () と ()


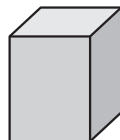
こたえ

(1) ㊸と㊹

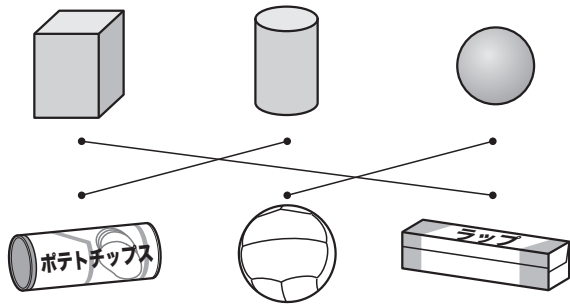
(2) ㊹と㊺

もんだい

にて いる かたちを せん で むすびましょう。



かたち



！ワンポイントアドバイス

はこの 大きさや、つつの
おきかたが ちがって いても、
かたちの とくちょうを よく
見て、かんがえる。