

チャレンジドリル①

正しい
正答数

□

/2

できたかな
マーク



が 月	に 日	ねん 年	くみ 組	ばん 番	なまえ 名前
--------	--------	---------	---------	---------	-----------

- 1 子どもが 12人 います。ひとりに みかんを 1こずつ、おかしを 1こずつ くばると、みかんが 3こ のこり、おかしが 4こ たりません。みかんとおかしでは、どちらが なんこ おおいですか。下の ずを つかって もんだいに こたえましょう。

ず 子ども ○○○○○○○○○○○○○○○

みかん

おかし

しき []


こたえ []

- 2 たろうさんは、9じに こうえんに ついて、1から 6の すうじが かいて ある はたの ところで スタンプを おして まわる スタンプラリーと いう ゲームを しました。



下の ずを 見て、たろうさんが スタンプを おした じゅんに、はたの すうじを かきましょう。

はたと スタンプを おした ときの とけい



スタンプを
おした じゅん



チャレンジドリル①

1 ず

子ども ○○○○○○○○○○○○○○○

みかん ○○○○○○○○○○○○○○○○○

おかし ○○○○○○○○○

しき (れい) $15-8=7$

こたえ みかんが 7こ おおい。

2 $\boxed{3} \Rightarrow \boxed{1} \Rightarrow \boxed{5} \Rightarrow \boxed{4} \Rightarrow \boxed{2} \Rightarrow \boxed{6}$

チャレンジドリル②

せいとうする
正答数

/2

できたかな
マーク

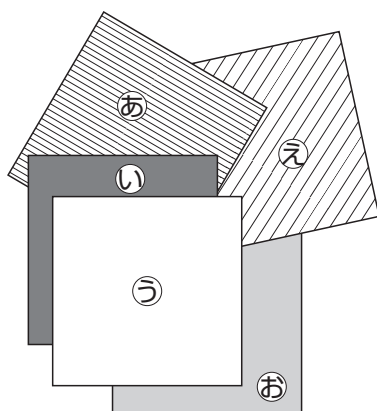


が 月 に 日 ねん 年 くみ 組 ばん 番

な まえ
名前

1 かたちも 大きさも おなじ かみが 5まい あります。この かみを
1まいずつ じゅんに かさねて おいて いきました。

2まいめに おいた かみは どれですか。㊤, ㊦, ㊧, ㊨, ㊩で
こたえましょう。




2まいめに おいた かみ []

2 下の 左の ずのように, ぼうを 8本 つかって, 大きな しかくを 1つ
つくりました。

4本だけ うごかして 小さな しかくを 2つ つくります。下の 右の
ずに, うごかす ぼうに ×をつけて, うごかした あとの ぼうを
かきましょう。



4本うごかす。



大きな しかくが 1つ

小さな しかくが 2つ

チャレンジドリル②**1** え**2** (れい)