

たしざんの けいさん

くみ
組

ばん
番

がつ
月

にち
日

せいとうすう
正答数

なまえ
名前

/ 8

ねらい

●たしざんが できる。

ようてんチェック

わかりにくい ときは、ブロックで
たしかめましょう。

$$5 + 2 = 7$$



れいだい

けいさんを しましょう。

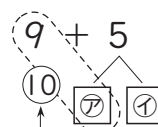
(1) $9 + 5$

(2) $13 + 2$

(1) 9は あと で 10。

5を と に わけます。

$$9 + 5 = \text{$$

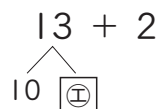


▶ポイント◀

10の まとまりを つくろう。

(2) 13は 10と だから、

$$13 + 2 = \text{$$



こたえ

ア 1

イ 4

ウ 14

エ 3

オ 15

もんだい

(1) $4 + 5 = \text{$

(2) $7 + 3 = \text{$

(3) $6 + 0 = \text{$

(4) $10 + 8 = \text{$

(5) $7 + 4 = \text{$

(6) $3 + 8 = \text{$

(7) $16 + 2 = \text{$

(8) $40 + 30 = \text{$

たしさんの けいさん			
(1) 9	(2) 10	(3) 6	！ <u>ポイントアドバイス</u>
(4) 18	(5) 11	(6) 11	(3) 6に なにも たさないので、
(7) 18	(8) 70		こたえは 6の まま。
			(8) $4+3=7$
			10の まとまりが 7こで、70

たしざんの もんだい

くみ
組

ばん
番

がつ
月

にち
日

せいとうすう
正答数

なまえ
名前

/ 3

ねらい


●たしざんの しきを つくって、こたえを もとめる ことができる。

ようてんチェック

「あわせて いくつ」、「ふえると いくつ」の もんだいは、
たしざんの しきを つくって もとめます。

れいだい

りんごが 5こ、みかんが 4こ あります。
あわせて なんこ ありますか。



しき $\boxed{\text{ア}}$ + $\boxed{\text{イ}}$ = $\boxed{\text{ウ}}$

りんごの かずを
かきます。

みかんの かずを
かきます。

こたえ

ア 5

イ 4

ウ 9

こたえ

$\boxed{\text{ウ}}$ こ

もんだい

- (1) 赤い ふうせんが 8こ、青い ふうせんが 5こ あります。
あわせて なんこ ありますか。

しき

$\boxed{}$

こたえ

$\boxed{}$ こ

- (2) シールを 9まい もって います。
2まい もらうと、ぜんぶで なんまいに なりますか。

しき

$\boxed{}$

こたえ

$\boxed{}$ まい

- (3) 車が 7だい とまって います。あとから 6だい きました。
ぜんぶで なんだいに なりましたか。

しき

$\boxed{}$

こたえ

$\boxed{}$ だい

たしさんの もんだい

(1) しき $8+5=13$

こたえ 13こ

(2) しき $9+2=11$

こたえ 11まい

(3) しき $7+6=13$

こたえ 13だい

！ポイントアドバイス

(1) 「あわせて なんこ」だから たしさんに
なる。

(2) もらうと、シールの かずは ふえるから、
たしさんに なる。

(3) あとから くと、車の かずは
ふえるから、たしさんに なる。

<div>.....</div> <div>いろいろな もんだい</div>	くみ 組	ばん 番	がつ 月	にち 日	せいとうすう 正答数
	なまえ 名前				/2

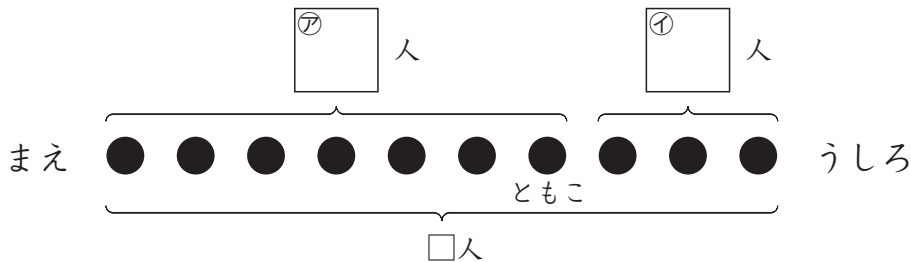
ねらい ●文しょうを よみ、しきを つくって こたえを もとめる ことが できる。

ようてんチェック

どんな けいさんになるか わかりにくい ときは、ずを つかって かんがえます。

れいだい

ともさんは、まえから 7ばんめに います。
ともさんの うしろに 3人 います。
みんなで なん人 いますか。



しき ㊦ こたえ ㊧ 人

こたえ

ア⁷

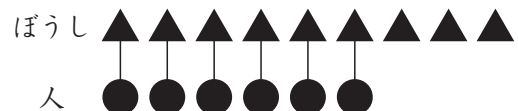
①3

⑦ $7+3=10$

⑩ 10

もんだい

(1) 6人が ぼうしを かぶって います。
 ぼうしは あと 3こ あります。
 ぼうしは、ぜんぶで なんこ ありますか。



しき

こたえ

(1)

(2) みかんが 11こ あります。
りんごは みかんより 6こ すくない
そうです。りんごは なんこ ありますか。



しき

こたえ

11

いろいろな もんだい

(1) しき $6+3=9$

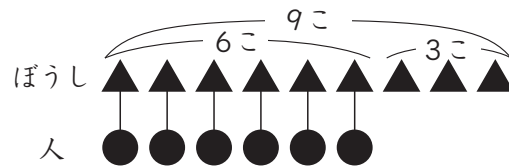
こたえ 9こ

(2) しき $11-6=5$

こたえ 5こ

!ワンポイントアドバイス

(1) 人が かぶって いる ぼうしは 6こ。



(2)

